

第5版

争当神算手(一)

口算园

一、5 1 3 5 5 9 9 10 2 0 3

7 7 2 3

二、2 6 1 7 3 6 10 5

三、6 3 2 5 6 7 9 2 4

百变屋

一、2 4 2 7 6 3

二、= < > = = < = > =

三、- +、+ + -、- + +、-

四、

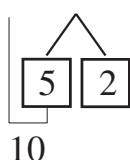
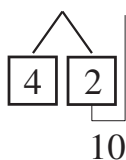


第6版

争当神算手(二)

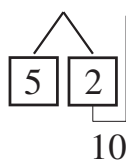
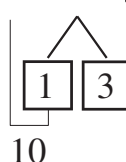
口算园

一、 $6 + 8 = 14$ $5 + 7 = 12$



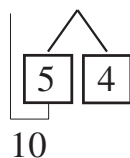
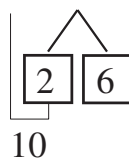
$9 + 4 = 13$

$7 + 8 = 15$



$8 + 8 = 16$

$5 + 9 = 14$



二、10 7 16 10 13 17 10 2 3 12

三、14 15 16 17 15 16 17 18

四、13 6 10 0 17 11 11 11 12

百变屋

一、8 11 9 7 6 7

二、< > < < = <

三、+ -、+ - +、- + +、-

四、6 9 8 17 8 5(答案不唯一)

第7版

争当神算手(三)

口算园

一、7 10 17 10 11 3 12 3 13 5

16 18

二、9 10 11 12 13 13 14 15 16

17

三、10 10 3 12 14

百变屋

一、○○○○○○ 6

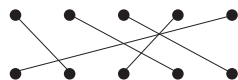
△△△ 3

☆☆☆☆☆☆☆☆ 8

二、7 9 9 16 9 5

三、> = > > = < < = >

四、



第13、14版

“数与代数”素养评价

一、1. 5 16 14

2. (1)个 十 (2)1 6 14 (3)13

(4)10 12

3. (1)8 (2)6 3

4. 10 10

5. < > > < = <

6. 7时半 7:30 9时 9:00 12时

12:00 1时半 1:30 7时 7:00

10时 10:00

7. (1)7 9 11 13 15

(2)14 12 10 8 6

8. 14 13 12

二、1. ① 2. ② 3. ③ 4. ② 5. ②

三、1. 14 8 6 18 11 10 13 20 13

2 7 14 12 8

2. (1)10 5 3 9 15

(2)1 13 10 5 13

3. (1) $10-6=4$ (2) $12+3=15$

(3) $3+7+5=15$

四、1. ○○○○○○○○○

2. △△△△△△

3. 略

五、1. $15-4=11$

2. $4+9=13$ $12<13$ 不够 ☒

3. (1) $18-5=13$ (2)7辆 (3) $18-10=8$

4. $17-10-1=6$

第17、18版

“图形与几何、统计”素养评价

一、1. 5 4 3 4

2. (1)12 (2)7 10 (3)8 3

3. ○ □ □ △ 6

4. (1)5 8 (2)4 ⑤ 7

二、1. ☐ ☐ ☐

2. ☐ ☒ ☐

3. ☒ ☐ ☐

4. ☒ ☐ ☐

5. ☐ ☐ ☒

三、1. ② ① 2. ② 3. ① 4. ③

四、乐器:①②⑧

蔬菜:③⑤⑥

体育用品:④⑦⑨⑩

五、1. (1)下 右(答案不唯一)

(2)下 左 3

(3)下 2 右 2(答案不唯一)

2. (1)11 10

(2)形状 ○ □ 10 11

第19版

易错消消乐

一、1. 1 1 十 7 7 一

2. 9 10 19 1

3. 4 4

4. 8时 10时

5. 四

6. (1)9 (2)略

二、1. ② 2. ③ 3. ③ 4. ②

三、1. 4 6 10 4 7 12

2. +、+ +、- +、- -、-

四、4 6 4 3

五、1. $6+6=12$

2. ① ③

第23、24版

综合能力提升(一)

一、1. 10 17 8 20

2. (1)3 1 (2)1 8 (3)15

3. 3 5 4

4. 上 下 左 右

5. (1)3 3 4 2 (2)圆柱 球

6. < < > = > =

7. 9:00 11时半 9时半 2:30

8. (1)0 2 (2)8 4

二、1. ☒ ☐ ☐

2. ☐ ☐ ☒

三、1. ② 2. ③ 3. ③ 4. ② 5. ②

四、1. 11 12 15 18 12 11 5 15 10
0 10 13

2. (1) $2+9=11$ (2) $9-4=5$ (3) $14-4-4=6$

五、1. $\triangle \triangle \triangle \triangle \triangle \triangle \triangle \triangle \triangle \triangle$

2. 文具:⑤⑦⑩ 玩具:②④⑥⑨

体育用品:①③⑧⑪

六、1. $15-3=12$

2. $5-3+6=8$

3. (1)4 4 10 1 (2)□ ☆ ◇

(3)□ ◎ (4) $10-4=6$

(5)□比☆多多少个? $10-1=9$ (答案

不唯一)

第25、26版

综合能力提升(二)

一、1. 12 3 17 12

2. 1 3 19

3. 8 9 10

4. 3

5. 7 10 12 14 15 17

6. 4 3 6 4

7. > = = < < >

8. 8 5 3

二、1. ☐ ☒ ☐

2. ☐ ☒ ☐

三、1. ② 2. ③ 3. ③ 4. ② 5. ②

四、1. 6 10 16 7 5 8 14 0 11 16
14 2 13 15 9 4

2. (1) $8+4=12$ (2) $15-2-3=10$

五、1. 

2. (1)①③⑤⑦⑨ ②④⑥⑧

(2)①②⑦⑧ ③④⑤ ⑥⑨

六、1. $7+7=14$

2. $16-3=13$

3. (1)上 2 左 2(答案不唯一)

(2)右 1 上 3(答案不唯一)

4. (1)一共有几只猴子? $7+7=14$

(2)水里有多少只鸭子? $2+1+4=7$

第27、28版

综合能力提升(三)

一、1. 10 15 18

2. (1) 15 12

(2) 个 十

3. (1) 10 3 3 2 2

(2) 5 6

(3) 略

4. (1) 19 17 11

(2) 9 18

5. $> = = > > <$

6. $6+9=15$ $9+6=15$

7. 5 7 2 7 9 8

8. 17

二、1. 

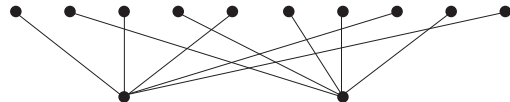
2. 

3. 

三、1. 6 5 5 3

2. ① ④

3. ② ③

四、1. 

2. 

3. 7 5

五、1. 9 6 3 12 7 5 9 16 3 5

2 16 17 13 10 14

2. (1) $6+6=12$ (2) $10-3=7$ (3) $3+4+2=9$

六、1. $17-5=12$

2. (1) $4+5=9$ (2) $5+6=11$

3. $5+6-1=10$

4. (1) $10-5=5$

(2) 答案不唯一。如：乐乐和梦梦一共得了几颗星？ $7+5=12$

第29、30版

综合能力提升(四)

一、1. 5 5

2. 18 17 19

3. (1) 6 5 2 (2) 6

4. 3 7 4 3

5. $< < = < > <$

6. 4:00 10时半 12时 3:30

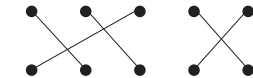
7. 9 4 5 18 8 8 8 (后两空答案不唯一)

8. 3

二、1. 

2. 

三、1. ② 2. ① 3. ③ 4. ③ 5. ③

四、1. 

2. 上 下 左 右

五、1. 6 14 11 12 10 13 13 19 11

10 12 17

2. (1) $7+6=13$ $6+7=13$

(2) $10-4=6$

(3) $4+4+2=10$

六、1. $10+5=15$

2. $7+7-4=10$

3. (1) $8+9=17$

(2) $6+5=11$

(3) 答案不唯一，如一共有几只鸭子？

$5+7=12$